



الصف الثالث

# رياضيات

امتحان النهائي

(7 علامات)

السؤال الأول: ضع دائرة حول رمز الإجابة الصحيحة:

1- عند التحويل من المتر إلى سم فإن (6 m) تساوي:

- أ- 600 cm  
ب- 60 cm  
ج- 6 cm  
د- 16 cm

2- عند التحويل من المتر إلى الكيلو متر فإن (9000m) تساوي:

- أ- 90 km  
ب- 19 km  
ج- 9 km  
د- 900 km

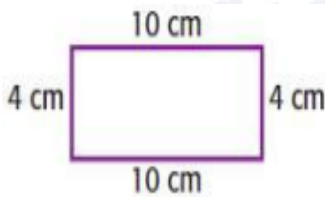
3- عند التحويل من الكيلو غرام إلى غرام فإن (7 kg) تساوي:

- أ- 70 g  
ب- 700 g  
ج- 7000 g  
د- 7 g

4- عند التحويل من اللتر إلى المليلتر فإن (4000mL) تساوي:

- أ- 4 ml  
ب- 400 l  
ج- 14 l  
د- 4 l

5- محيط الشكل المجاور يساوي:

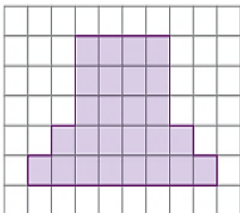


- أ- 28 cm  
ب- 20 cm  
ج- 24 cm  
د- 18 cm

6- مساحة المستطيل الذي يحتوي أربعة أعمدة وثلاثة صفوف تساوي:

- أ- 7 وحدة مربعة  
ب- 9 وحدة مربعة  
ج- 12 وحدة مربعة  
د- 10 وحدة مربعة

7- مساحة الشكل المظلل المجاور تساوي:



- أ- 25 وحدة مربعة  
ب- 26 وحدة مربعة  
ج- 24 وحدة مربعة  
د- 20 وحدة مربعة

السؤال الثاني: أكتب إشارة > أو < أو = في المربع لأكون عبارة صحيحة: (4 علامات)

6800 ml  7 L

4 k  4000 g

8 km  7500 m

4 m  500 cm

السؤال الثالث: أستعمل التقويم المجاور لأجيب عن الاسئلة الآتية: (3 علامات)

حزيران						
الأحد	الاثنين	الثلاثاء	الأربعاء	الخميس	الجمعة	السبت
				1	2	3
4	5	6	7	8	9	10
11	12	13	14	15	16	17
18	19	20	21	22	23	24
25	26	27	28	29	30	

أ- ما طول الفترة الزمنية من 9 حزيران إلى 23 حزيران؟ .....

ب- ما هو التاريخ بعد 10 أيام من 4 حزيران؟ .....

ج- ما هو التاريخ بعد أسبوعين من 11 حزيران؟ .....

(3 علامات)

السؤال الرابع: ارسم عقارب الساعة حسب المطلوب تحت الساعة:



العاشرة والرابع

الرابعة إلا ربع

التاسعة وثلاثون دقيقة

(3 علامات)

السؤال الخامس: أستمعمل شكل فن المجاور لأجيب عن الأسئلة الآتية:



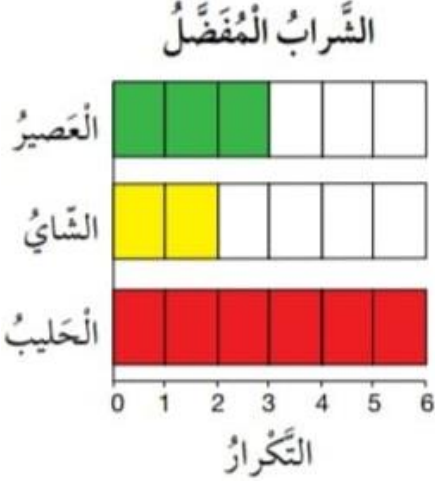
أ - ما الأشياء التي لها أربعة أرجل وليست من الحيوانات؟

ب - ما الحيوانات التي ليس لها أربعة أرجل؟

ج - ما الحيوانات التي لها أربعة أرجل؟

(3 علامات)

**السؤال السادس: أستمعل التمثيل بالأعمدة في الشكل المجاور لأجيب عن الأسئلة الآتية:**



أ- كم شخصاً يفضل الحليب؟

ب- بكم يقل عدد الذين يفضلون الشاي عن عدد الذين يفضلون العصير؟

ج- كم شخصاً أجاب عن السؤال حول الشراب المفضل؟

(علامتان)

**السؤال السابع: أجيب عن الأسئلة التالية بعد النظر إلى العلب المجاورة:**



1- اختيار  $\triangle$  من العلبة المجاورة:

أ- أكيد

ب- ممكن

ج- مستحيل

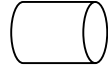
د- لا يمكن تحديد ذلك



2- الشكل الذي من المستحيل اختياره من الكيس المجاور:



أ-



ب-



ج-



د-

**انتهت الأسئلة**

**الإجابات**

(7 علامات)

**السؤال الأول: ضع دائرة حول رمز الإجابة الصحيحة:**

**1- عند التحويل من المتر إلى سم فإن (6 m) تساوي:**

أ- 600 cm

ب- 60 cm

ج- 6 cm

د- 16 cm

**2- عند التحويل من المتر إلى الكيلو متر فإن (9000m) تساوي:**

أ- 90 km

ب- 19 km

ج- 9 km

د- 900 km

**3- عند التحويل من الكيلو غرام إلى غرام فإن (7 kg) تساوي:**

أ- 70 g

ب- 700 g

ج- 7000 g

د- 7 g

**4- عند التحويل من اللتر إلى المليلتر فإن (4000mL) تساوي:**

أ- 4 ml

ب- 400 l

ج- 14 l

د- 4 l

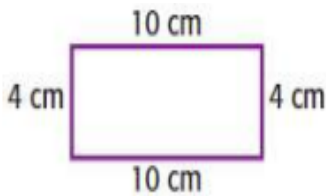
**5- محيط الشكل المجاور يساوي:**

أ- 28 cm

ب- 20 cm

ج- 24 cm

د- 18 cm



**6- مساحة المستطيل الذي يحتوي أربعة أعمدة وثلاثة صفوف تساوي:**

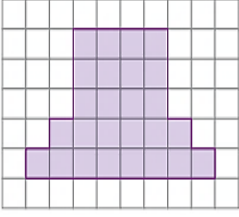
أ- 7 وحدة مربعة

ب- 9 وحدة مربعة

ج- 12 وحدة مربعة

د- 10 وحدة مربعة





ب- 26 وحدة مربعة  
د- 20 وحدة مربعة

7- مساحة الشكل المظلل المجاور تساوي:

أ - 25 وحدة مربعة

ج- 24 وحدة مربعة

السؤال الثاني: أكتب إشارة < أو > أو = في المربع لأكون عبارة صحيحة: (4 علامات)

6800 ml < 7 L

4 k = 4000 g

8 km > 7500 m

4 m < 500 cm

السؤال الثالث: أستعمل التقويم المجاور لأجيب عن الاسئلة الآتية: (3 علامات)

حزيران						
الأحد	الاثنين	الثلاثاء	الأربعاء	الخميس	الجمعة	السبت
				1	2	3
4	5	6	7	8	9	10
11	12	13	14	15	16	17
18	19	20	21	22	23	24
25	26	27	28	29	30	

أ- ما طول الفترة الزمنية من 9 حزيران إلى 23 حزيران؟ 14 يوم

ب- ما هو التاريخ بعد 10 أيام من 4 حزيران؟ 14 حزيران

ج- ما هو التاريخ بعد أسبوعين من 11 حزيران؟ 25 حزيران

(3 علامات)

السؤال الرابع: ارسم عقارب الساعة حسب المطلوب تحت الساعة:



العاشرة والرابع



الرابعة إلا ربع



التاسعة وثلاثون دقيقة

(3 علامات)

السؤال الخامس: أستعمل شكل فن المجاور لأجيب عن الأسئلة الآتية:



أ - ما الأشياء التي لها أربعة أرجل وليست من الحيوانات؟

كرسي، طاولة

ب - ما الحيوانات التي ليس لها أربعة أرجل؟

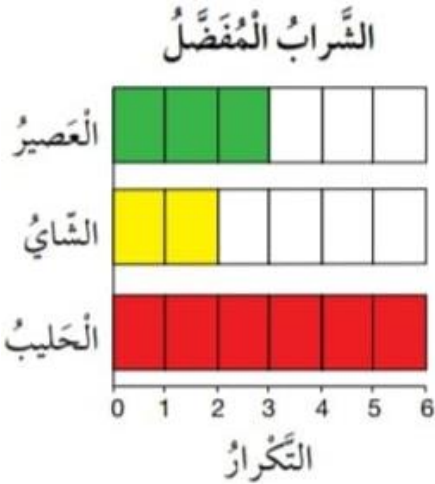
عنكبوت، بطة

ج - ما الحيوانات التي لها أربعة أرجل؟

قطعة، حصان

(3 علامات)

السؤال السادس: أستعمل التمثيل بالأعمدة في الشكل المجاور لأجيب عن الأسئلة الآتية:



أ - كم شخصاً يفضل الحليب؟

6 أشخاص

ب - بكم يقل عدد الذين يفضلون الشاي عن عدد الذين يفضلون العصير؟

$3 - 2 = 1$  شخص واحد

ج - كم شخصاً أجاب عن السؤال حول الشرب المفضل؟

11 شخص



السؤال السابع: أجب عن الأسئلة التالية بعد النظر إلى العلب المجاورة: (علامتان)



1- اختيار  من العلب المجاورة:

أ- أكيد

ج- مستحيل

ب- ممكن

د- لا يمكن تحديد ذلك



2- الشكل الذي من المستحيل اختياره من الكيس المجاور:

أ-



ب-



د-



ج -



منصة أساس التعليمية

انتهت الإجابات



# فيديوهات شرح المادة بشكل كامل على بطاقات أساس



06 222 9990

0799 797 880

