

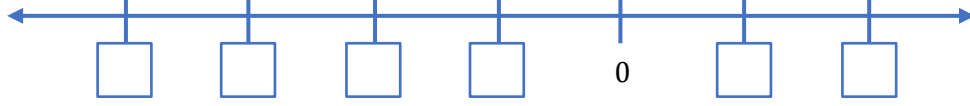


الصف الخامس

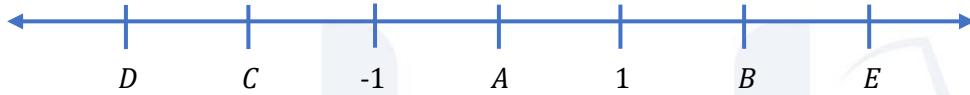
رياضيات

الأعداد السالبة

س1: أكمل خط الأعداد بوضع العدد المناسب في .



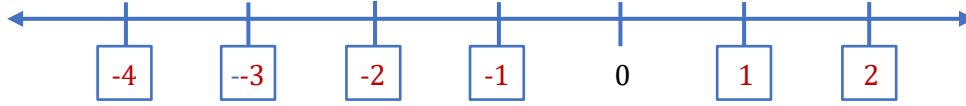
س2: إذا كانت الحروف (A, B, C, D, E) تمثّل أعداداً على خط الأعداد أدناه،
أجب عما يلي:



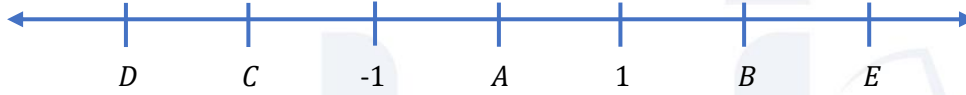
- ما الحرف الذي يمثل العدد صفر؟
- ما الحروف التي تمثل عدداً موجباً؟
- ما الحروف التي تمثل عدداً سالباً؟

س3: إذا كانت درجة الحرارة 5 درجة مئوية وانخفضت بمقدار 7 درجات، ما درجة الحرارة الآن؟

س1: أكمل خط الأعداد بوضع العدد المناسب في :



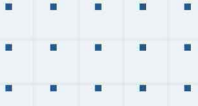
س2: إذا كانت الحروف (A, B, C, D, E) تمثل أعداداً على خط الأعداد أدناه،
أجب عما يلي:



- ما الحرف الذي يمثل العدد صفر؟ A
- ما الحروف التي تمثل عدداً موجباً؟ B, E
- ما الحروف التي تمثل عدداً سالباً؟ D, C

س3: إذا كانت درجة الحرارة 5 درجة مئوية وانخفضت بمقدار 7 درجات، ما درجة الحرارة الآن؟

–2



فيديوهات شرح المادة بشكل كامل على بطاقات أساس

