



الصف الثاني

رياضيات

الامتحان النهائي
الفصل الثاني

السؤال الأول: جد ناتج ما يلي يا بطل :

2×2

4×3

5×5

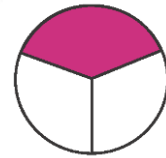
$20 \div 4$

$8 \div 2$

$15 \div 3$

السؤال الثاني: أكتب الكسر الذي يمثل الجزء الملون يا بطل





السؤال الثالث: أكمل الجدول التالي يا بطل :

| عدد الرؤوس | عدد الأوجه | عدد الأحرف | اسم الجسم | شكل الجسم |
|------------|------------|------------|-----------|-----------|
| | | 8 | | |
| | | | | |
| | 2 | 0 | أسطوانة | |
| 1 | 1 | | | |



السؤال الرابع: ارسم حسب المطلوب يا بطل :

| المطلوب | الرسم |
|---------------------------------|-------|
| شكل مستو له 5 أضلاع و 5 رؤوس | |
| شكل مستو له 0 أضلاع و 0 رؤوس | |
| شكل مستو له 4 أضلاع و 4 رؤوس | |

السؤال الخامس: من التقويم المجاور أجب عن الأسئلة يا بطل :

ما اسم هذا الشهر ؟

كم يوما فيه ؟

ما اسم الشهر السابق والتالي له ؟

السؤال السادس: أقرأ الوقت ، ثم أكتبه في الساعة الرقمية يا بطل :



السؤال السابع: لنفكر معا يا بطل:



- 1 : أنا مجسم لي 12 حرف و 8 رؤوس و 6 أوجه فمن أنا ؟
- 2 : أجد طول قلم الرصاص باستخدام وحدة ؟
- 3 : أجد طول الخزانة باستخدام وحدة ؟
- 4 : أستعمل _____ لقياس الكتلة الكبيرة ، وأستعمل الغرام لقياس الكتلة _____ .
- 5 : أستعمل _____ لقياس السعة الكبيرة ، وأستعمل المليلتر لقياس السعة _____ .
- 6 : أكتب قيمة المبلغ الذي بالصورة ؟



مما لنخاطب القمير بأحلامنا وأمنياتنا

انتهت الامتحان



السؤال الأول: جد ناتج ما يلي يا بطل :

$$2 \times 2 = 4$$

$$4 \times 3 = 12$$

$$5 \times 5 = 25$$

$$20 \div 4 = 5$$

$$8 \div 2 = 4$$

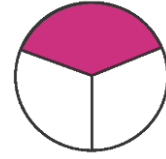
$$15 \div 3 = 5$$

السؤال الثاني: أكتب الكسر الذي يمثل الجزء الملون يا بطل

$$\frac{1}{6}$$



$$\frac{1}{3}$$






السؤال الثالث: أكمل الجدول التالي يا بطل :

| شكل الجسم | اسم الجسم | عدد الأحرف | عدد الأوجه | عدد الرؤوس |
|---|-----------|------------|------------|------------|
|  | هرم | 8 | 5 | 5 |
|  | كرة | 0 | 0 | 0 |
|  | أسطوانة | 0 | 2 | 0 |
|  | مخروط | 0 | 1 | 1 |



السؤال الرابع: ارسم حسب المطلوب يا بطل :

| المطلوب | الرسم |
|---------------------------------|---|
| شكل مستو له 5 أضلاع و 5 رؤوس |  |
| شكل مستو له 0 أضلاع و 0 رؤوس |  |
| شكل مستو له 4 أضلاع و 4 رؤوس |  |

السؤال الخامس: من التقويم المجاور أجب عن الأسئلة يا بطل :

حَزِيرَانُ

| الأحد | الاثنين | الثلاثاء | الأربعاء | الخميس | الجمعة | السبت |
|-------|---------|----------|----------|--------|--------|-------|
| | | | | 1 | 2 | 3 |
| 4 | 5 | 6 | 7 | 8 | 9 | 10 |
| 11 | 12 | 13 | 14 | 15 | 16 | 17 |
| 18 | 19 | 20 | 21 | 22 | 23 | 24 |
| 25 | 26 | 27 | 28 | 29 | 30 | |

ما اسم هذا الشهر ؟ حزيان

كم يوما فيه ؟ 30 يوم

ما اسم الشهر السابق والتالي له ؟ السابق أيار والتالي تموز

السؤال السادس: أقرأ الوقت ، ثم أكتبه في الساعة الرقمية يا بطل :



12:45



10:25



السؤال السابع: لنفكر معا يا بطل:



- 1 : أنا مجسم لي 12 حرف و 8 رؤوس و 6 أوجه فمن أنا ؟ **مكعب / متوازي مستطيلات**
- 2 : أجد طول قلم الرصاص باستخدام وحدة ؟ **cm**
- 3 : أجد طول الخزانة باستخدام وحدة ؟ **m**
- 4 : أستعمل **الكيلو غرام** لقياس الكتلة الكبيرة ، وأستعمل الغرام لقياس الكتلة **غرام**.
- 5 : أستعمل **ليتر** لقياس السعة الكبيرة ، وأستعمل المليلتر لقياس السعة **مللتر**.
- 6 : أكتب قيمة المبلغ الذي بالصورة ؟



50 دينار

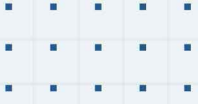


100 قرش

مما لنخاطب القمر بأحلامنا وأمنياتنا

انتهت الامتحان





فيديوهات شرح المادة بشكل كامل على بطاقات أساس



06 222 9990

0799 797 880

