



الصف الأول

# رياضيات

الامتحان النهائي  
الفصل الثاني

السؤال الأول: جد ناتج ما يلي يا بطل :

$$32 + 44 = \boxed{\phantom{00}}$$

$$30 + 10 = \boxed{\phantom{00}}$$

$$80 - 50 = \boxed{\phantom{00}}$$

$$63 - 12 = \boxed{\phantom{00}}$$

$$\begin{array}{r} 4 \ 5 \\ + 2 \ 4 \\ \hline \end{array}$$

$$\begin{array}{r} 9 \ 8 \\ - 5 \ 6 \\ \hline \end{array}$$

\*\*\*\*\*

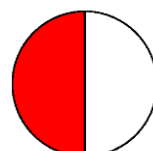

السؤال الثاني: جد العدد المفقود يا بطل :

$$\boxed{\phantom{00}} - 32 = 53$$

$$43 + \boxed{\phantom{00}} = 99$$

\*\*\*\*\*

السؤال الثالث: اكتب الكسر الذي يمثل الجزء الملون يا بطل :



**السؤال الرابع: ضع خط تحت اسم المجسم في الصورة يا بطل :**

متوازي مستطيلات

مكعب



كرة

هرم



مخروط

مكعب



\*\*\*\*\*

**السؤال الخامس: ارسم حسب المطلوب يا بطل :**

الرسم	المطلوب
	مربع و مستطيل
	شكل مستو له 0 ضلع و 0 رأس
	مثلث



السؤال السادس: اقرأ الوقت ، ثم اكتبه في الساعة الرقمية يا بطل :



\*\*\*\*\*

السؤال السابع: ارسم المبلغ الذي يدل على سعر الطائرة حقيبة يا بطل :



منصة أساس التعليمية



السؤال الثامن: لنفكر معا يا بطل :



أنا اليوم الذي يذهب فيه المسلمون إلى المسجد لأداء صلاة الجمعة ؟  
إذا كان اليوم هو الثلاثاء ، فالأمس كان ؟  
من الأطول قلم رصاص أم الطفل الصغير ؟  
من الأثقل الفيل أم العصفور ؟  
من الأكثر سعة خزان الماء أم كأس الماء ؟  
أنا شكل لي 3 أضلاع و 3 رؤوس فمن أنا ؟

**وما لنا طالب القصر بأحلامنا وأمنياتنا**

**انتهت الأسئلة**



## الإجابات

السؤال الأول: جد ناتج ما يلي يا بطل :

$$32 + 44 = 76$$

$$30 + 10 = 40$$

$$80 - 50 = 30$$

$$63 - 12 = 51$$

$$\begin{array}{r} 4 \ 5 \\ + 2 \ 4 \\ \hline 6 \ 9 \end{array}$$

$$\begin{array}{r} 9 \ 8 \\ - 5 \ 6 \\ \hline 4 \ 2 \end{array}$$

\*\*\*\*\*

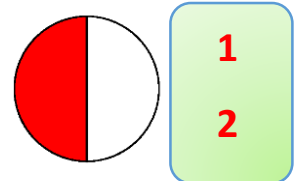
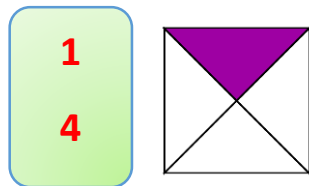
السؤال الثاني: جد العدد المفقود يا بطل :

$$85 - 32 = 53$$

$$43 + 56 = 99$$

\*\*\*\*\*

السؤال الثالث: اكتب الكسر الذي يمثل الجزء الملون يا بطل :





السؤال الرابع: ضع خط تحت اسم المجسم في الصورة يا بطل :

متوازي مستطيلات

مكعب



كرة

هرم






مخروط

مكعب



\*\*\*\*\*

السؤال الخامس: ارسم حسب المطلوب يا بطل :

الرسم	المطلوب
	مربع و مستطيل
	شكل مستو له 0 ضلع و 0 رأس
	مثلث

السؤال السادس: اقرأ الوقت ، ثم اكتبه في الساعة الرقمية يا بطل :



\*\*\*\*\*

السؤال السابع: ارسم المبلغ الذي يدل على سعر الطائرة حقيبة يا بطل :



يرسم الطالب القطع النقدية التي تمثل المبلغ يوجد أكثر  
من حل للسؤال



السؤال الثامن: لنفكر معا يا بطل :



أنا اليوم الذي يذهب فيه المسلمون إلى المسجد لأداء صلاة الجمعة ؟  
**الجمعة**

إذا كان اليوم هو الثلاثاء ، فالأمس كان ؟ **الاثنين**

من الأطول قلم رصاص أم الطفل الصغير ؟ **الطفل الصغير**

من الأثقل الفيل أم العصفور ؟ **الفيل**

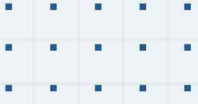
من الأكثر سعة خزان الماء أم كأس الماء ؟ **خزان الماء**

أنا شكل لي 3 أضلاع و 3 رؤوس فمن أنا ؟ **المثلث**

**مما نتخاطب القمر بأحلامنا وأمنياتنا**

**انتهت الامتحان**





# فيديوهات شرح المادة بشكل كامل على بطاقات أساس



06 222 9990

0799 797 880

