



سؤال

إذا علمت أن x ، y متناسبان طردياً، أجد:(1) ثابت التناسب k .

(2) أكتب معادلة التناسب الطردي.

1)

x	2	4	6
y	4	8	12

2)

x	0.5	1	1.5
y	3	6	9



سؤال

إذا علمت أن x ، y متناسبان طردياً، أجد القيمة المجهولة في

الجدول:

1)

x	2	4	6
y	5	10	a

2)

x	0.5	1	1.5
y	5	b	15



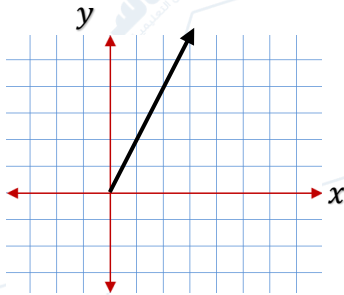
سؤال

في الشكل المجاور علاقة تناسب طردي، أجد:

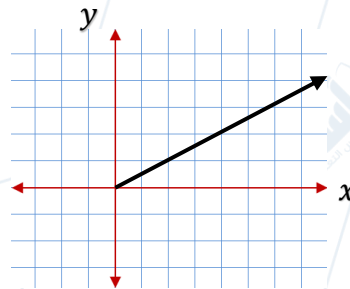
(1) ثابت التناسب k .

(2) معادلة التناسب الطردي.

1)



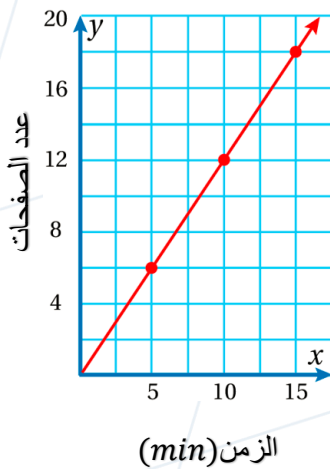
2)



سؤال

يمثل الشكل المجاور العلاقة بين الزمن (min) وعدد الصفحات

التي تقرأها سعاد:



(1) أكتب معادلة تمثل العلاقة.

(2) كم عدد الصفحات التي تقرأها سعاد خلال ساعتين؟