



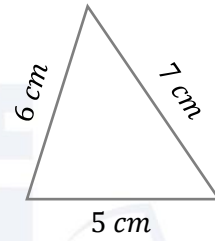
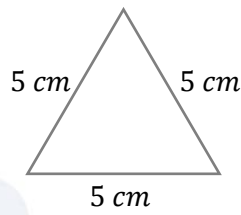
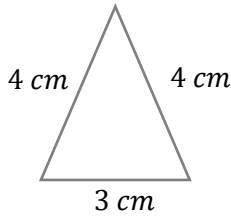
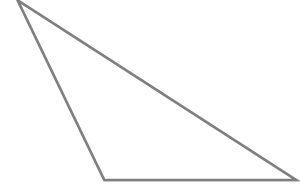
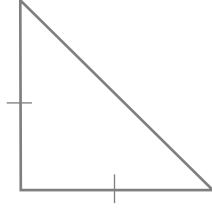
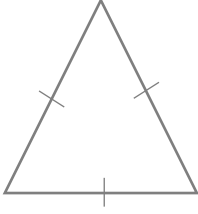
الصف الخامس

رياضيات

ورقة عمل 16

تصنيف المثلثات حسب
أطوال أضلاعها

س1: أصنّف المثلثات التالية حسب أطوال أضلاعها:



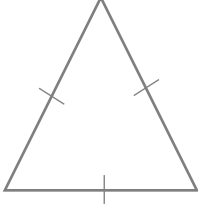
س2: في ما يأتي أطوال مثلثات، أصنّف المثلثات حسب أطوال أضلاعها:

① 5 cm , 5 cm , 5 cm

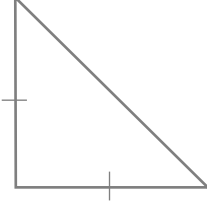
② 4 cm , 0.04 cm , 10 cm

③ 7 cm , 3 cm , 5 cm

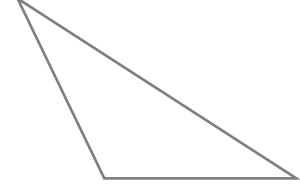
س1: أصنّف المثلثات التالية حسب أطوال أضلاعها:



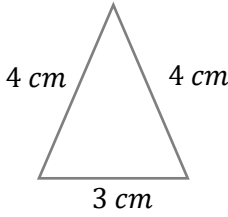
متطابق الأضلاع



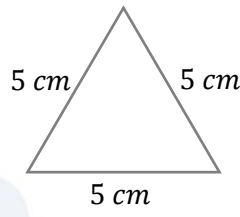
متطابق الضلعين



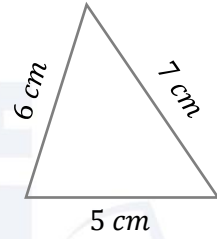
مختلف الأضلاع



متطابق الضلعين



متطابق الأضلاع



مختلف الأضلاع

س2: في ما يأتي أطوال مثلثات، أصنّف المثلثات حسب أطوال أضلاعها:

- ① 5 cm , 5 cm , 5 cm

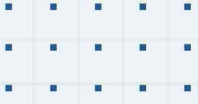
متطابق الأضلاع

- ② 4 cm , $\underbrace{0.04\text{ m}}_{4\text{ cm}}$, 10 cm

متطابق الضلعين

- ③ 7 cm , 3 cm , 5 cm

مختلف الأضلاع



فيديوهات شرح المادة بشكل كامل على بطاقات أساس

