



الصف الرابع

رياضيات

ورقة عمل 29

س1: سأل معلم الصف الرابع عن الفواكه المفضل لديهم، فكانت إجابات الطلبة كالتالي:

10 طلاب يفضلون التفاح ، 15 طالباً يفضلون الموز

5 طلاب يفضلون التفاح والموز معاً

كم عدد طلبة الصف.

س2: اشترك طلاب الصف الرابع في أندية الأنشطة في مدرستهم.

فإذا اشترك 12 طالب في النشاط الرياضي

و 8 طلاب في النشاط العلمي

و 4 طلاب في النشاطين معاً

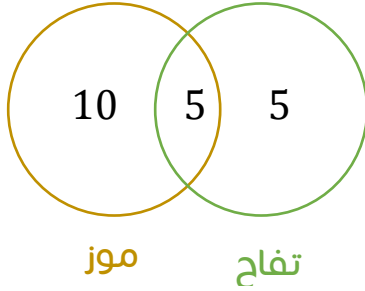
ما عدد الطلبة الذين اشتركوا في النشاط الرياضي فقط؟

س1: سأل معلم الصف الرابع عن الفواكه المفضل لديهم، فكانت إجابات الطلبة كالتالي:

10 طلاب يفضلون التفاح ، 15 طالباً يفضلون الموز

5 طلاب يفضلون التفاح والموز معاً

كم عدد طلبة الصف.



$$10 + 5 + 5 = 20$$

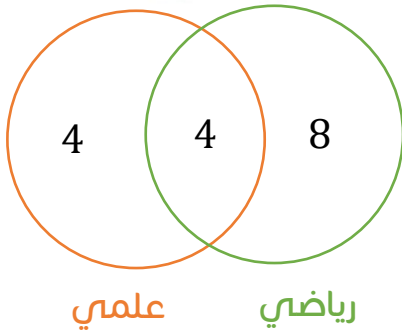
س2: اشترك طلاب الصف الرابع في أنشطة الأنشطة في مدرستهم.

فإذا اشترك 12 طالب في النشاط الرياضي

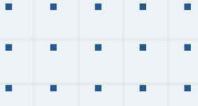
و 8 طلاب في النشاط العلمي

و 4 طلاب في النشاطين معاً

ما عدد الطلبة الذين اشتركوا في النشاط الرياضي فقط؟



8 طلاب



فيديوهات شرح المادة بشكل كامل على بطاقات أساس



06 222 9990

0799 797 880

