



الصف الأول

علوم



امتحان الشهر الأول



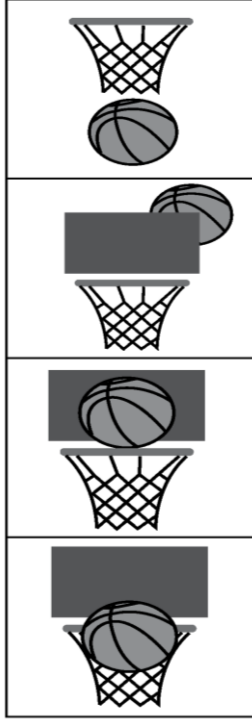
السؤال الأول: صل بخط بين المفهوم والصورة المناسبة :

السكون	
الحركة	
قوة السحب	
قوة الدفع	

السؤال الثاني: أكتب بجانب كل صورة نوع القوة (قوة تنافر – قوة تجاذب) :

السؤال الثالث: أكتب الكلمة المناسبة (أمام - خلف - فوق - تحت) بجانب الصورة:







السؤال الرابع: ضع إشارة صح أمام العبارة الصحيحة ، وإشارة خطأ أمام العبارة الخاطئة .

1. () لا تتحرك الأشياء إلا في خط مستقيم فقط .
2. () الكتب من الأشياء الساكنة في الصف التي لا تتحرك إلا بتأثير قوة عليه
3. () نستخدم كلمة أمام لتحديد مكان شيء محدد .
4. () القوة تجعل الشيء الثابت يتحرك .
5. () للمغناطيس طرفان كل طرف يسمى قطب .

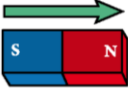
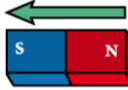

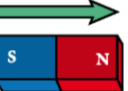
أنت الأورع يا عبقرى المستقبل

انتهت الأسئلة

السؤال الأول: صل بخط بين المفهوم والصورة المناسبة :

السكون	
الحركة	
قوة السحب	
قوة الدفع	

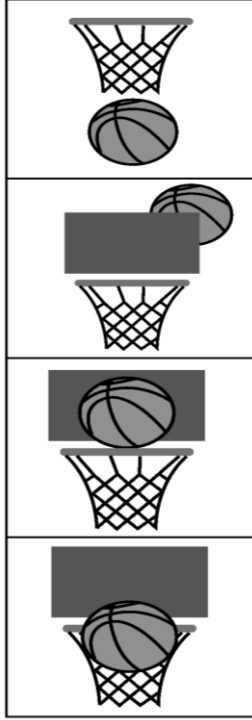
السؤال الثاني: أكتب بجانب كل صورة نوع القوة (قوة تنافر – قوة تجاذب):

قوة تجاذب

قوة تنافر

السؤال الثالث: أكتب الكلمة المناسبة (أمام – خلف – فوق – تحت) بجانب الصورة:



تحت

خلف

فوق

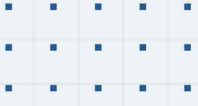
أمام

السؤال الرابع: ضع إشارة صح أمام العبارة الصحيحة ، وإشارة خطأ أمام العبارة الخاطئة .

1. (✗) لا تتحرك الأشياء إلا في خط مستقيم فقط .
2. (✓) الكتب من الأشياء الساكنة في الصف التي لا تتحرك إلا بتأثير قوة عليه
3. (✓) نستخدم كلمة أمام لتحديد مكان شيء محدد .
4. (✓) القوة تجعل الشيء الثابت يتحرك .
5. (✓) للمغناطيس طرفان كل طرف يسمى قطب .

أنت الأورع يا عبقرى المستقبل

انتهت الأسئلة



فيديوهات شرح المادة بشكل كامل على بطاقات أساس

