




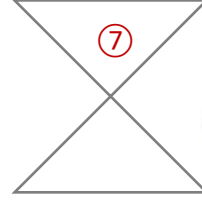
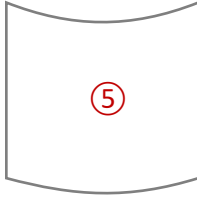
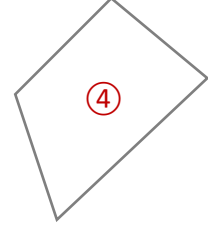
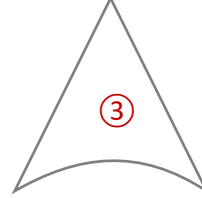
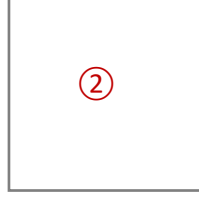
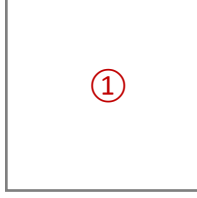
الصف الخامس

رياضيات

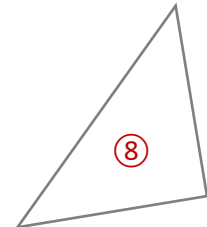
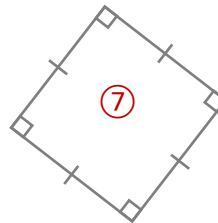
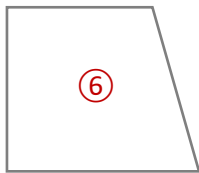
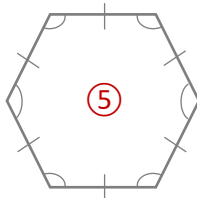
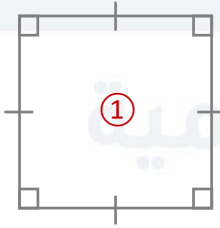
ورقة عمل 15

المضلعات

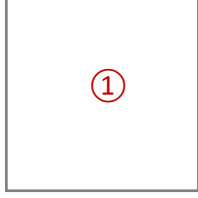
س1: أصنّف الأشكال الآتية إلى مضلّعات أو غير مضلّعات:



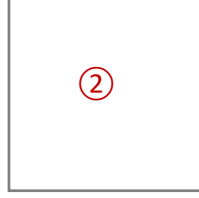
س2: أصنّف الأشكال التالية إلى مضلّعات منتظمة أو غير منتظمة وأسمّيها:



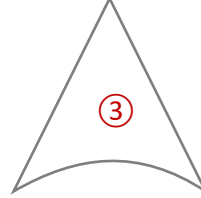
س1: أصنّف الأشكال الآتية إلى مضلّعات أو غير مضلّعات:



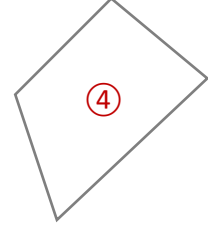
مضلع



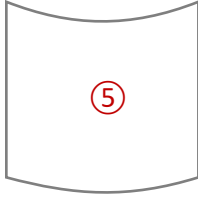
غير مضلع



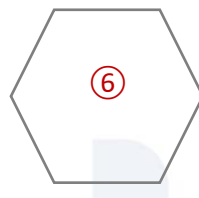
غير مضلع



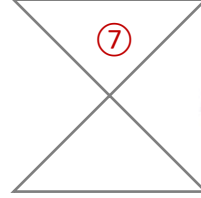
مضلع



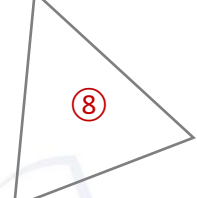
غير مضلع



مضلع

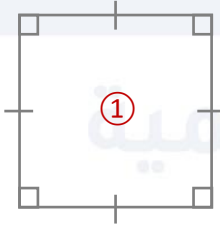


غير مضلع

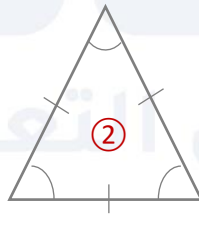


مضلع

س2: أصنّف الأشكال التالية إلى مضلّعات منتظمة أو غير منتظمة وأسمّيها:



مضلع رباعي منتظم



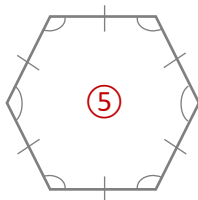
ثلاثي منتظم



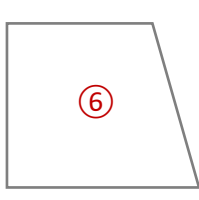
رباعي غير منتظم



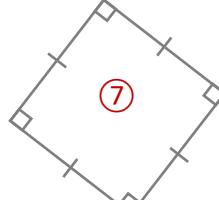
سداسي غير منتظم



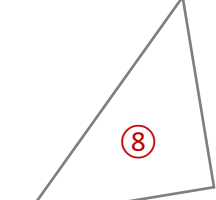
سداسي منتظم



رباعي غير منتظم



رباعي منتظم



ثلاثي غير منتظم



فيديوهات شرح المادة بشكل كامل على بطاقات أساس

