



5

الصف الخامس

الدراسات الاجتماعية

امتحان الشهر الثاني



السؤال الأول: ضع المصطلح المناسب لكل من التعريفات التالية:-

- 1-هي عملية إنتاج المحاصيل الزراعية النافعة للإنسان _____
- 2-تغيير شكل المادة الخام لتلائم حاجات الإنسان وتفي بمتطلبات المجتمع وأغراض التصدير. _____
- 3-بيع المنتجات الاقتصادية المختلفة وشرائها بالنقود _____
- 4-هي انتقال فرد أو جماعة من مكان إلى آخر داخل البلد الواحد أو خارجه بقصد الراحة أو الاستجمام _____

السؤال الثاني: عدد كلاً مما يلي:-

- 1-ثلاثة أنواع للسياحة
أ. _____ ب. _____ ج. _____
- 2-ثلاثة عوامل مؤثرة في التجارة:
أ. _____ ب. _____ ج. _____

3-نوعي التجارة:

أ. _____ ب. _____

4-ثلاثة مقومات للصناعة

أ. _____ ب. _____ ج. _____

السؤال الثالث:- ضع إشارة صح أمام العبارة الصحيحة وإشارة خطأ أمام العبارة الخاطئة في ما يلي

1- تسمى عملية تبادل السلع بالمقايضة ()

2- تساهم الصناعة في تحريك عجلة الاقتصاد ()

3- من فوائد القطاع الزراعي الزحف العمراني ()

4- من أنواع الصناعة الصناعة المروية ()

5- زيارة أضرحة شهداء مؤتة مثال على السياحة الدينية ()

إجابات الأسئلة

السؤال الأول: ضع المصطلح المناسب لكل من التعريفات التالية:-

1- هي عملية إنتاج المحاصيل الزراعية النافعة للإنسان **الزراعة**

2- تغيير شكل المادة الخام لتلائم حاجات الإنسان وتفي بمتطلبات المجتمع وأغراض التصدير. **الصناعة**

3- بيع المنتجات الاقتصادية المختلفة وشرائها بالنقود **التجارة**

4- هي انتقال فرد أو جماعة من مكان إلى آخر داخل البلد الواحد أو خارجه بقصد الراحة أو

الاستجمام **السياحة**



السؤال الثاني: عدّد كلّ مما يلي:-

1- ثلاثة أنواع للسياحة

أ. سياحة علاجية ب. سياحة بيئية ج. سياحة ترفيهية

2- ثلاثة عوامل مؤثرة في التجارة:

ب. العلاقات السياسية بين الدول

أ. كمية الإنتاج الزراعي والصناعي

ج. التقدم العلمي والتكنولوجي

3- نوعي التجارة:

أ. داخلية

ب. خارجية

4- ثلاثة مقومات للصناعة

أ. رأس المال

ب. المواد الخام

ج. الأيدي العاملة

السؤال الثالث:- ضع إشارة صح أمام العبارة الصحيحة وإشارة خطأ أمام العبارة الخاطئة في

ما يلي

1- تسمى عملية تبادل السلع بالمقايضة (✓)

2- تساهم الصناعة في تحريك عجلة الاقتصاد (✓)

3- من فوائد القطاع الزراعي الزحف العمراني (✗)

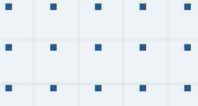
4- من أنواع الصناعة الصناعة المروية (☒)

5- زيارة أضرحة شهداء مؤتة مثال على السياحة الدينية (☒)

انتهت الإجابات



منصة أساس التعليمية



فيديوهات شرح المادة بشكل كامل على بطاقات أساس

