

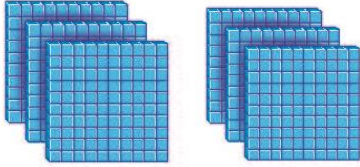


الصف الثاني

# رياضيات

امتحان الشهر الأول

السؤال الأول : اكتب عدد الواحدات وعدد العشرات وعدد المئات يا بطل:




الواحدات      العشرات      المئات

\_\_\_\_\_ = \_\_\_\_\_ = \_\_\_\_\_

\*\*\*\*\*

السؤال الثاني : مثل العدد التالي مستخدماً النماذج يا بطل:

243



\*\*\*\*\*

السؤال الثالث : اكتب القيمة المنزلية للعدد الملون يا بطل :

\_\_\_\_\_ 245  
\_\_\_\_\_ 879  
\_\_\_\_\_ 478



السؤال الرابع : اكتب الأعداد التالية بالصيغة التحليلية يا بطل :

$$265 = \underline{\quad} + \underline{\quad} + \underline{\quad}$$

$$999 = \underline{\quad} + \underline{\quad} + \underline{\quad}$$

$$675 = \underline{\quad} + \underline{\quad} + \underline{\quad}$$

\*\*\*\*\*

السؤال الخامس : اكتب الأعداد التالية بالكلمات يا بطل :

654

200

501

720

لنفكر معًا ( من أنا ؟ )



كم عشرة في العدد 453 ؟

كم مئة في العدد 589 ؟

أنا عدد صيغتي التحليلية هي ( 2 + 50 + 300 ) فمن أنا ؟


أنا مئتي 9 وأحادي 7 وعشري 6 ، فمن أنا ؟

معاً نحو التميز انتهت الأسئلة يا بطلاني المستقبل



## الإجابات

السؤال الأول : اكتب عدد الواحدات وعدد العشرات وعدد المئات يا بطل:



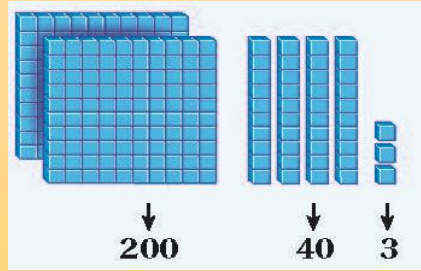
الواحدات      العشرات      المئات

$$600 = 60 \text{ عشرات} = 6 \text{ مئات}$$

\*\*\*\*\*

السؤال الثاني : مثل العدد التالي مستخدما النمادج يا بطل:

243



\*\*\*\*\*

السؤال الثالث : اكتب القيمة المنزلية للعدد الملون يا بطل :

5	245
70	879
400	478

السؤال الرابع : اكتب الأعداد التالية بالصيغة التحليلية يا بطل :

$$265 = 200 + 60 + 5$$

$$999 = 900 + 90 + 9$$

$$675 = 600 + 70 + 5$$

\*\*\*\*\*

السؤال الخامس : اكتب الأعداد التالية بالكلمات يا بطل :

ستمئة وأربعة وخمسون

654

مئتان

200

خمسمئة و واحد

501

سبعمئة وعشرون

720



لنفكر معًا ( من أنا ؟ )



كم عشرة في العدد 453 ؟ 50

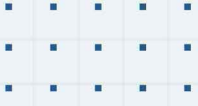
كم مئة في العدد 589 ؟ 5

أنا عدد صيغتي التحليلية هي ( 300 + 50 + 2 ) فمن أنا ؟ 352

أنا مئتي 9 وأحادي 7 وعشري 6 ، فمن أنا ؟ 967

معاً نحو التميز انتهت الأجوبة يا بطلاني المستقبل





# فيديوهات شرح المادة بشكل كامل على بطاقات أساس



06 222 9990

0799 797 880

