



الصف الخامس

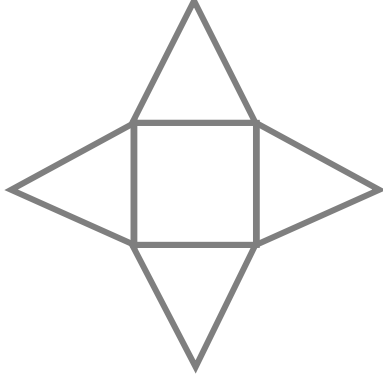
رياضيات

ورقة عمل 20


المنشور والهرم

س1: اكتب اسم المجسم الناتج من طي كل من الشبكات الآتية:


①



②



③



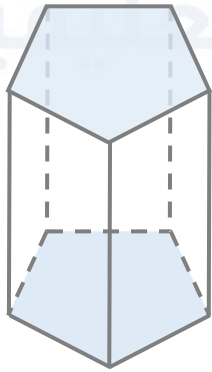
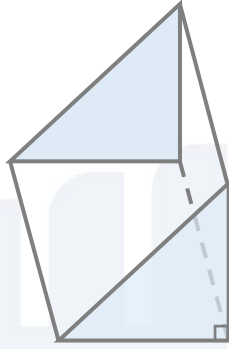
④



منصة أساس التعليمية

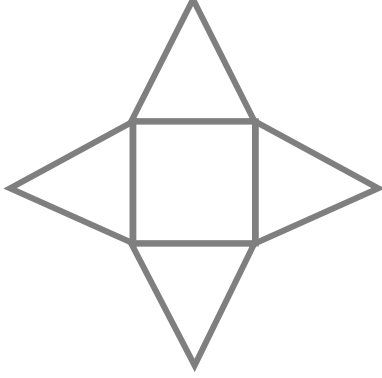


س2: اكتب اسم المجسم وعدد أوجهه الكلية وأحرفه ورؤوسه:




س1: اكتب اسم المجسم الناتج من طي كل من الشبكات الآتية:

①




هرم رباعي

②



منشور ثلاثي

③



منشور رباعي

④



هرم سداسي

س2: اكتب اسم المجسم وعدد أوجهه الكلية وأحرفه ورؤوسه:

منشور رباعي



عدد الرؤوس = 8

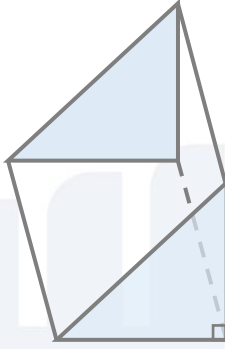
عدد الأحرف = 12

عدد الأوجه الجانبية = 4

عدد القاعدة = 2

عدد الأوجه الكلية = 6

منشور ثلاثي



عدد الرؤوس = 6

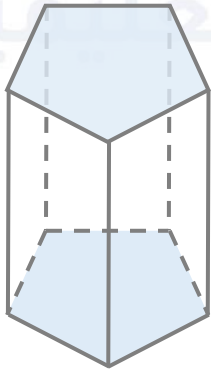
عدد الأحرف = 9

عدد الأوجه الجانبية = 3

عدد القاعدة = 2

عدد الأوجه الكلية = 5

منشور خماسي



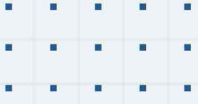
عدد الرؤوس = 10

عدد الأحرف = 15

عدد الأوجه الجانبية = 5

عدد القاعدة = 2

عدد الأوجه الكلية = 7



فيديوهات شرح المادة بشكل كامل على بطاقات أساس

