



الصف السابع

# رياضيات

العدد النسبي

**السؤال الأول:**

اكتب كلاً مما يلي على الصورة  $\frac{a}{b}$  بأبسط صورة:

①  $-3\frac{1}{2} \rightarrow$

②  $20\% \rightarrow$

③  $4\frac{2}{5} \rightarrow$

④  $0.25 \rightarrow$

**السؤال الثاني:**

أمثل الأعداد النسبية التالية على خط الأعداد:

①  $0.3 \rightarrow$

②  $1.8 \rightarrow$

③  $-\frac{2}{5} \rightarrow$

④  $2\frac{1}{4} \rightarrow$





### السؤال الأول:

اكتب كلاً مما يلي على الصورة  $\frac{a}{b}$  بأبسط صورة:

- ①  $-3\frac{1}{2}$  →  $-\frac{7}{2}$
- ②  $20\%$  →  $\frac{20}{100} = \frac{1}{5}$
- ③  $4\frac{2}{5}$  →  $\frac{22}{5}$
- ④  $0.25$  →  $\frac{25}{100} = \frac{1}{4}$

### السؤال الثاني:

أمثل الأعداد النسبية التالية على خط الأعداد:

- ①  $0.3$  → 
- ②  $1.8$  → 
- ③  $-\frac{2}{5}$  → 
- ④  $2\frac{1}{4}$  → 



# فيديوهات شرح المادة بشكل كامل على بطاقات أساس

