




الصف الأول

رياضيات

امتحان الشهر الثاني

السؤال الأول : اكتب عدد الآحاد وعدد العشرات، ثم اكتب العدد :



عشرات

آحاد

العدد

السؤال الثاني : مثل العدد 32 بالنماذج :

السؤال الثالث : ضع خطاً تحت القيمة المنزلية للرقم الذي تحته خط

(8 80 98)

(2 20 24)

السؤال الرابع : حوط أزواجا لتحدد إذا كان العدد زوجيا أم فرديا :



11 (زوجي ♥) (فردي 😊)

السؤال الخامس : اكتب العدد بالصورة التحليلية:

$$\begin{array}{rcl} 67 & = & \boxed{} + \boxed{} \\ 34 & = & \boxed{} + \boxed{} \end{array}$$

السؤال السادس : رتب الأعداد التالية حسب المطلوب

تنازليا

54 , 98 , 8 : _____ , _____ , _____

تصاعديا

4 , 42 , 76 : _____ , _____ , _____

السؤال السابع : اقفز حسب المطلوب واكتب الأعداد الناقصة

اثنيات

2, 4 , 6 , 8 , 10 , —, —, —, —, —

خمسات

10 , 15, 20 , 25 , —, —, —, —, —

عشرات

10 , 20 , 30 , 40 , —, —, —, —, —

السؤال الثامن : اكتب العدد السابق والعدد التالي والعدد بين العددين فيما يلي يا بطل

19

54

56

90

السؤال التاسع : ضع إشارة > أو < أو = في المربع :

76

67

43

43

12

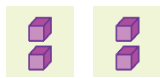
7

انتهت الامتحان أنت وبقرتي كبير



الإجابات

السؤال الأول : اكتب عدد الآحاد وعدد العشرات، ثم اكتب العدد :



عشرات

6

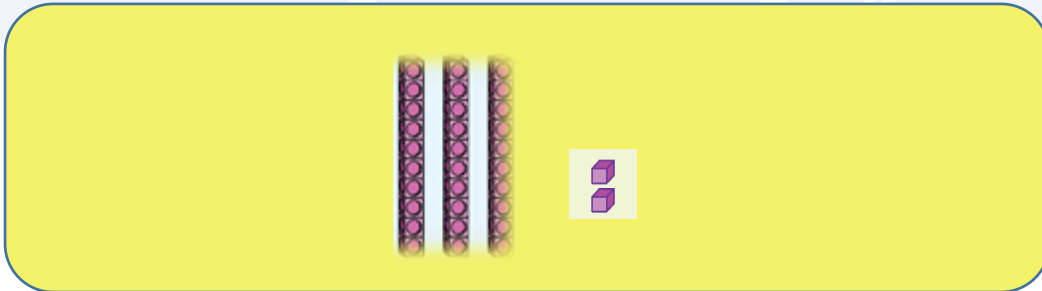
آحاد

4

العدد

64

السؤال الثاني : مثل العدد 32 بالنماذج :



السؤال الثالث : ضع خطاً تحت القيمة المنزلية للرقم الذي تحته خط

98 (80 8)

24 (20 2)

السؤال الرابع : حوِّط أزواجا لتحدد إذا كان العدد زوجيا أم فرديا :



11) زوجي

السؤال الخامس : اكتب العدد بالصورة التحليلية:

$$\begin{array}{rcl} 67 & = & \boxed{60} + \boxed{7} \\ 34 & = & \boxed{30} + \boxed{4} \end{array}$$

السؤال السادس : رتب الأعداد التالية حسب المطلوب

تصاعديا

54 , 98 , 8 : 8 , 54 , 98

تنازليا

4 , 42 , 76 : 76 , 42 , 4

السؤال السابع : اقفز حسب المطلوب واكتب الأعداد الناقصة

اثنيات

2, 4 , 6 , 8 , 10 , 12, 14, 16, 18, 20

خمسات

10 , 15, 20 , 25 , 30, 35, 40, 45, 50

عشرات

10 , 20 , 30 , 40 , 50, 60, 70, 80, 90

السؤال الثامن : اكتب العدد السابق والعدد التالي والعدد بين العددين فيما يلي يا بطل

19

20

54

55

56

89

90

منصة أساس التعليمية

السؤال التاسع : ضع إشارة > أو < أو = في المربع :

76

>

67

43

=

43

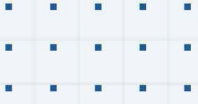
12

>

7

انتهت الاجوبة أنت مقروء كبير





فيديوهات شرح المادة بشكل كامل على بطاقات أساس



06 222 9990

0799 797 880

