



الصف الأول

# رياضيات

امتحان الشهر الأول

**السؤال الأول: ارسم في  حسب المطلوب :**

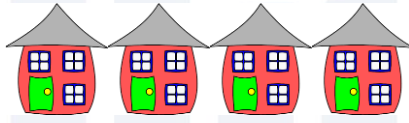


**4 وردات**

**6 تفاحات**

\*\*\*\*\*

**السؤال الثاني : عد الأشياء ثم اكتب العدد :**






\*\*\*\*\*

**السؤال الثالث : اكتب الأعداد المفقودة :**

0

2




5

6

اذكر اسم الحيوانات التالية شفويًا ، ثم اكتب الكلمة المناسبة من الصندوق في الفراغ :

ألاحظ نبدأ الترتيب من اليمين مع السهم.

الأول - الثاني - الثالث - الرابع - الخامس - سلحفاة - السابع - السادس - ثمر



- 1 : ترتيب الفيل هو \_\_\_\_\_ .
- 2 : ترتيب الأسد هو \_\_\_\_\_ .
- 3 : حوط الحيوان الذي يجلس في الترتيب السابع واكتب اسمه \_\_\_\_\_ .
- 4 : ترتيب الدب هو \_\_\_\_\_ .
- 5 : ضع خط تحت الحيوان السادس.
- 6 : الحيوان الذي يأكل الجزرة ترتيبه هو \_\_\_\_\_ .
- 7 : حوط الكلب واكتب ترتيبه \_\_\_\_\_ .
- 8 : هل يوجد حيوان ترتيبه العاشر \_\_\_\_\_ .


وانق النجوم بأحلامك يا بطل

انتهت الأجوبة




## الاجابات

السؤال الأول: ارسم في  حسب المطلوب :



6 تفاحات



4 وردات

\*\*\*\*\*

السؤال الثاني : عد الأشياء ثم اكتب العدد :



4

منصة أساس التعليمية



5

\*\*\*\*\*

السؤال الثالث : اكتب الأعداد المفقودة :



3



06 222 9990


إعداد المعلمة : رشا الحجاج



**السؤال الرابع :** اذكر اسم الحيوانات التالية شفويًا ، ثم اكتب الكلمة المناسبة من الصندوق في الفراغ :

ألاحظ نبدأ الترتيب من اليمين مع السهم.

الأول - الثاني - الثالث - الرابع - الخامس - سلحفاة - السابع - السادس - ثمر



1 : ترتيب الفيل هو الأول .

2 : ترتيب الأسد هو السادس .

3 : حوط الحيوان الذي يجلس في الترتيب السابع واكتب اسمه ثمر .

4 : ترتيب الدب هو الرابع .

5 : ضع خط تحت الحيوان السادس .

6 : الحيوان الذي يأكل الجزرة ترتيبه هو الثاني .

7 : حوط الكلب واكتب ترتيبه الثالث .

8 : هل يوجد حيوان ترتيبه العاشر لا .

**وانق النجوم بأحلامك يا بطل**

**انتهت الأجوبة**





# فيديوهات شرح المادة بشكل كامل على بطاقات أساس



06 222 9990

0799 797 880

